



Concurso Público Edital n.001/2019 – Prefeitura Municipal de Rio Verde- GO

Caderno de questões - Acupunturista

DISCIPLINAS - Língua Portuguesa, Matemática, Conhecimentos Específicos.

INSTRUÇÕES

- * Não se comunique, em hipótese alguma, com outros candidatos.
- * Não é permitida a consulta a apontamentos, livros ou dicionários.
- * Solicite a presença do fiscal em caso de necessidade.
- * A prova consta de 56 questões, sendo 12 de Língua Portuguesa, 12 de Matemática e 32 de Conhecimentos Específicos, com 04 (quatro) proposições, A, B, C e D. O candidato deverá assinalar (X) na alternativa correta correspondente em cada questão, transportando depois o resultado para o Cartão-Resposta.
- * Para marcar no Cartão-Resposta, utilize caneta esferográfica de tinta azul ou preta.
- * Confira, no Cartão-Resposta, o número de sua inscrição, seu nome e assine no espaço adequado.
- * Em nenhuma hipótese será distribuída cópia do Cartão-Resposta, que é identificado eletronicamente.
- * Não serão consideradas as respostas que não forem transportadas para o Cartão-Resposta.
- * Verifique se o seu Caderno de Questões apresenta todas as folhas numeradas corretamente. Caso haja algum problema, comunique o fiscal de sala.

Cronograma (resumo) das principais datas referentes ao Concurso Público

Data	Ação/Evento
18/08/19	Divulgação dos Gabaritos Preliminares das Provas Objetivas.
23/08/19	Divulgação do Gabarito Oficial das Provas Objetivas.
30/08/19	Divulgação do Resultado Preliminar das Provas Objetivas.
13/09/19	Divulgação do Resultado Final das Provas Objetivas, após análise do(s) recurso(s).
16/09/19	Convocação dos candidatos aos cargos de nível superior classificados para apresentação dos documentos da Prova de Títulos.
30/09/19	Divulgação do Resultado Preliminar das Provas de Títulos (cargos de nível superior) e das Provas de Redação (cargos de nível médio/técnico).
09/10/19	Divulgação do Resultado Definitivo após a análise do(s) recurso(s) contra o resultado preliminar das Provas de Títulos (cargos de nível superior) e das Provas de Redação (cargos de nível médio/técnico).
10/10/19	Divulgação da Classificação Final do Concurso.

LÍNGUA PORTUGUESA

Leia o texto abaixo e responda às questões de 01 a 04.

Texto 1: Sermão de Santo Antônio aos peixes – Pe. Antônio Vieira

Vós, diz Cristo, Senhor nosso, falando com os pregadores, sois o sal da terra: e chama-lhes sal da terra, porque quer que façam na terra o que faz o sal. O efeito do sal é impedir a corrupção; mas quando a terra se vê tão corrupta como está a nossa, havendo tantos nela que têm ofício de sal, qual será, ou qual pode ser a causa desta corrupção? Ou é porque o sal não salga, ou porque a terra se não deixa salgar. Ou é porque o sal não salga, e os pregadores não pregam a verdadeira doutrina; ou porque a terra se não deixa salgar e os ouvintes, sendo verdadeira a doutrina que lhes dão, a não querem receber. Ou é porque o sal não salga, e os pregadores dizem uma cousa e fazem outra; ou porque a terra se não deixa salgar, e os ouvintes querem antes imitar o que eles fazem, que fazer o que dizem. Ou é porque o sal não salga, e os pregadores se pregam a si e não a Cristo; ou porque a terra se não deixa salgar, e os ouvintes, em vez de servir a Cristo, servem a seus apetites. Não é tudo isto verdade? Ainda mal!

Suposto, pois, que ou o sal não salgue ou a terra se não deixe salgar; que se há-de fazer a este sal e que se há-de fazer a esta terra? O que se há-de fazer ao sal que não salga, Cristo o disse logo: *Quod si sal evanuerit, in quo salietur? Ad nihilum valet ultra, nisi ut mittatur foras et conculcetur ab hominibus.* «Se o sal perder a substância e a virtude, e o pregador faltar à doutrina e ao exemplo, o que se lhe há-de fazer, é lançá-lo fora como inútil para que seja pisado de todos.» Quem se atrevera a dizer tal cousa, se o mesmo Cristo a não pronunciara? Assim como não há quem seja mais digno de reverência e de ser posto sobre a cabeça que o pregador que ensina e faz o que deve, assim é merecedor de todo o desprezo e de ser metido debaixo dos pés, o que com a palavra ou com a vida prega o contrário.

Disponível em:

<http://www.biblio.com.br/defaultz.asp?link=http://www.biblio.com.br/conteudo/padreantoniovieira/stoantonio.htm>

QUESTÃO 1

De acordo com o texto, assinale a alternativa correta:

- a) () Predomina a tipologia argumentativa, em que o autor expõe sua ideia de forma imparcial, prendendo-se ao caráter informativo do enunciado.
- b) () O autor faz uma série de analogias com a intenção de esclarecer o tema central: a importância do Evangelho.
- c) () Predomina a função poética da linguagem, uma vez que o autor dá maior realce à própria forma do texto do que ao conteúdo em si.
- d) () O autor inicia fazendo referência a um trecho do Evangelho construído em linguagem figurada (“sois o sal da terra”), para depois explicar o seu sentido aplicado à realidade local.

QUESTÃO 2

De acordo com texto, o autor defende a tese de que:

- a) () Se há corrupção em terra com tantos pregadores, deve haver algum problema com os pregadores ou com seus ouvintes.
- b) () O sal deve impedir a corrupção.
- c) () A corrupção dentro da Igreja afeta a população.
- d) () Os pregadores cumprem mal o seu papel porque não conseguem fazer com que seus fiéis corrijam seu comportamento.

QUESTÃO 3

De acordo com o texto, sobre os argumentos apresentados pelo autor, assinale a alternativa INCORRETA:

- a) () O autor levanta a hipótese de que os pregadores pregam uma doutrina falsa.

- b) () O autor levanta a hipótese de que pode haver dissonância entre o que dizem os pregadores e o que fazem.
- c) () O autor levanta a hipótese de que os ouvintes podem estar interessados na doutrina, mas não conseguem colocá-la em prática.
- d) () O autor levanta a hipótese de que a mensagem do Cristo pode não ser o verdadeiro foco nem de pregadores nem de ouvintes.

QUESTÃO 4

Sobre o segundo parágrafo do texto acima, assinale a alternativa INCORRETA:

- a) () Para reforçar sua posição, o autor lança mão de um argumento usado por Cristo.
- b) () Todo pregador que ensina e faz o seu dever merece ser respeitado.
- c) () O autor demonstra rejeição ao pregador cujo comportamento é contrário ao que prega.
- d) () Todo pregador equivale ao sal que não salga.

Leia o texto abaixo e responda às questões 05 e 06.

Texto 2

Eu tinha onze anos quando tio Baltazar chegou da primeira vez. Estava casado de novo, mas veio sozinho e com fama de muito rico. Relembrando aqueles tempos, meu pai me disse que depois de alguns dias aqui tio Baltazar pensou em desistir da Companhia e voltar. Agora eu pergunto de novo: se ele tivesse voltado naquela ocasião, será que ainda estaria vivo? E se ele não tivesse fundado a Companhia, será que teríamos passado por tudo o que passamos? Mas perguntar essas coisas agora é o mesmo que dizer que se o bezerro da vizinha não tivesse morrido ainda estaria vivo. Estou aqui para falar do que aconteceu, e não do que deixou de acontecer.

Tio Baltazar. Um nome, a fama, muitas fotografias — assim era que eu o conhecia. Parece que ele achava absolutamente necessário a pessoa tirar retrato todo mês, ou toda semana. Frequentemente mamãe recebia uma fotografia dele tirada em estúdio de retratista ou ao ar livre por algum amigo. Lembro-me especialmente de uma, tirada ao volante de um lustroso carro esporte que os entendidos aqui diziam ser de fabricação italiana e muito caro: tio Baltazar aparecia com o braço esquerdo descansando na porta do carro, o cabelo repartido no meio, camisa de gola aberta dobrada sobre o paletó xadrez igual aos que os artistas de cinema estavam usando, piteira com cigarro na boca, sorriso de rico no rosto simpático. Essa fotografia, com dedicatória para mamãe, fez o maior sucesso entre nossos amigos, além de vê-la muitos queriam mostrar a outros. Entre zelosa e vaidosa, mamãe emprestava; mas se a pessoa demorava a devolver, eu recebia a missão de ir buscá-la, um documento daquela importância não podia passar muito tempo em mãos profanas.

Se estou aqui para contar a verdade, não posso esconder o meu desapontamento quando vi tio Baltazar descendo do carro em nossa porta. No primeiro momento pensei que fosse outra pessoa, um amigo ou empregado. O cabelo era bem mais ralo e não estava mais repartido ao meio, acho que porque essa moda já tinha passado. E o rosto não era tão moço como o das fotografias. Mas o que me decepcionou mesmo, até me assustou, foi a falta de um braço. Onde estava o braço esquerdo que descansava na porta do carro na fotografia famosa? Vendo-o sair do carro ajudado pelo chofer, a manga vazia do paletó metida no bolso, a bela imagem de um tio campeão em muitos esportes virou fumaça ali mesmo. Eu já tinha visto pessoas sem perna, sem braço, sem mão, até um homem sem nariz eu vi de joelhos ao meu lado na igreja na Semana Santa: mas não eram meus tios. Fiquei tão decepcionado que fui me esconder no porão e nem apareci para o jantar. É difícil entender, mas pensando no meu procedimento naquele dia parece que eu acusava tio Baltazar de ter cortado o braço só para me humilhar diante de meus amigos.

(VEIGA, José J. **Sombras de reis barbudos**. Rio de Janeiro: Bertrand Brasil, 1989. p. 2-4).

QUESTÃO 5

Sobre o texto 2, assinale a alternativa correta:

- a) () O narrador é um adolescente que expressa seu ressentimento por ter sido humilhado pelo tio.
- b) () No início do trecho, o narrador tenta imaginar como teria sido aquela realidade caso decisões diferentes tivessem sido tomadas.
- c) () Inicialmente, o narrador não reconhece o tio quando o vê pessoalmente, confundido pela aparência mais envelhecida que o tio tinha nas fotografias.
- d) () O narrador já estava acostumado a ver pessoas sem partes do corpo, por isso não se impressionou quando viu o tio sem um braço.

QUESTÃO 6

Sobre o texto 2, assinale a alternativa INCORRETA:

- a) () As fotos enviadas pelo tio rico davam à mãe do narrador certa distinção na comunidade.
- b) () No trecho “tio Baltazar aparecia com o braço esquerdo descansando na porta do carro, o cabelo repartido no meio, camisa de gola aberta dobrada sobre o paletó xadrez igual aos que os artistas de cinema estavam usando, piteira com cigarro na boca, sorriso de rico no rosto simpático”, pode-se identificar tipologia textual descritiva, que predomina no texto como um todo.
- c) () O texto realça a distinção entre aparência e realidade, e como o contraponto entre as duas pode ser decepcionante.
- d) () Predomina no texto a função expressiva ou emotiva da linguagem.

Leia o texto abaixo e responda às questões 07 e 08.

Texto 3 - O homem trocado – Luís Fernando Veríssimo

O homem acorda da anestesia e olha em volta. Ainda está na sala de recuperação. Há uma enfermeira do seu lado. Ele pergunta se foi tudo bem.

- Tudo perfeito - diz a enfermeira, sorrindo.

- Eu estava com medo desta operação...

- Por quê? Não havia risco nenhum.

- Comigo, sempre há risco. Minha vida tem sido uma série de enganos...

Ele conta que os enganos começaram com seu nascimento. Houve uma troca de bebês no berçário e ele foi criado até os dez anos por um casal de orientais, que nunca entenderam o fato de terem um filho claro com olhos redondos. Descoberto o erro, ele fora viver com seus verdadeiros pais. Ou com sua verdadeira mãe, pois o pai abandonara a mulher depois que esta não soubera explicar o nascimento de um bebê chinês.

- E o meu nome? Outro engano.

- Seu nome não é Lírio?

- Era para ser Lauro. Se enganaram no cartório e...

Os enganos se sucediam. Na escola, vivia recebendo castigo pelo que não fazia. Fizera o vestibular com sucesso, mas não conseguira entrar na universidade. O computador se enganara, seu nome não apareceu na lista.

- Há anos que a minha conta do telefone vem com cifras incríveis. No mês passado tive que pagar mais de R\$ 3 mil.

- O senhor não faz chamadas interurbanas?

- Eu não tenho telefone!

Conhecera sua mulher por engano. Ela o confundira com outro. Não foram felizes.

- Por quê?

- Ela me enganava.

Fora preso por engano. Várias vezes. Recebia intimações para pagar dívidas que não fazia. Até tivera uma breve, louca alegria, quando ouvira o médico dizer:

- O senhor está desenganoado.

Mas também fora um engano do médico. Não era tão grave assim. Uma simples apendicite.

- Se você diz que a operação foi bem...

A enfermeira parou de sorrir.

- Apendicite? - perguntou, hesitante.

- É. A operação era para tirar o apêndice.

- Não era para trocar de sexo?

QUESTÃO 7

Considerando os mecanismos de coesão no texto 3, assinale a alternativa que apresenta correta correspondência entre o termo destacado e o respectivo elemento de referência.

- a) () “esta”, em “que esta não soubera explicar o nascimento de um bebê chinês”, refere-se a “mãe”.
- b) () “ela”, em “Ela o confundira com outro”, refere-se a “enfermeira”.
- c) () “que”, em “que não fazia”, refere-se a “intimações”.
- d) () “que”, em “que esta não soubera explicar o nascimento de um bebê chinês”, refere-se a “enfermeira”.

QUESTÃO 8

Em relação ao(s) tipo(s) de discurso, pode-se afirmar que o trecho abaixo está escrito em:

Fora preso por engano. Várias vezes. Recebia intimações para pagar dívidas que não fazia. Até tivera uma breve, louca alegria, quando ouvira o médico dizer:

- O senhor está desenganoado.

Mas também fora um engano do médico. Não era tão grave assim. Uma simples apendicite.

- Se você diz que a operação foi bem...

A enfermeira parou de sorrir.

- Apendicite? - perguntou, hesitante.

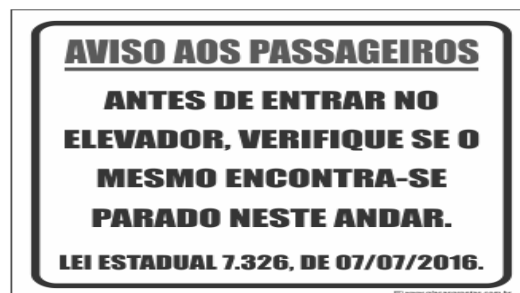
- É. A operação era para tirar o apêndice.

- Não era para trocar de sexo?

- a) () discurso direto.
- b) () discurso indireto.
- c) () discurso indireto livre.
- d) () discurso direto e indireto.

QUESTÃO 9

Leia a placa e assinale a alternativa correta:



- a) () Não se deve usar a palavra "mesmo" como pronome pessoal.
- b) () O vocábulo “mesmo” está corretamente utilizado (de acordo com a norma culta) como elemento substitutivo do substantivo “elevador”.

- c) () A palavra “mesmo” na placa desempenha a função de substantivo, cujo sentido se refere a “mesma coisa”.
- d) () O vocábulo “mesmo” se apresenta como advérbio (portanto, invariável), com o significado de “justamente, até, ainda, realmente”.

QUESTÃO 10

Assinale a alternativa correta em relação à concordância:

- a) () Houveram muitos protestos em relação à proposta de emenda constitucional.
- b) () A aquisição de novos equipamentos para o setor de produção trouxeram facilidades para os trabalhadores da indústria.
- c) () Depois de longas discussões entre os diplomatas, ainda prevalecia a desconfiança e o rancor.
- d) () Ela estava meia cansada após um longo dia de trabalho.

QUESTÃO 11

Em “Paulo se acusava pelo mau andamento dos negócios na empresa”, a voz do verbo é:

- a) () Passiva analítica.
- b) () Passiva sintética.
- c) () Reflexiva.
- d) () Ativa.

QUESTÃO 12

Leia a placa e assinale a alternativa correta:



Na placa, observa-se o emprego de uma regra de concordância nominal na construção “É proibido comer e beber nesta área”. Tal regra está sendo transgredida na seguinte opção:

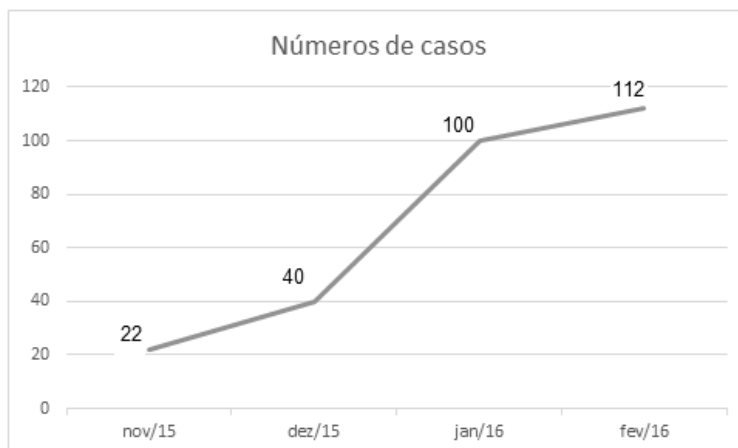
- a) () É proibida a entrada de menores.
- b) () É proibida alimentação de mamíferos.
- c) () É proibido circulação de pessoas.
- d) () É proibido uso de celulares.

MATEMÁTICA

QUESTÃO 13

O Zika Vírus (ZKV) é transmitido pelos mosquitos *Aedes aegypti* (o mesmo transmissor da dengue e da febre chikungunya) e o *Aedes albopictus*. O vírus Zika teve sua primeira aparição registrada em 1947, quando foi encontrado em macacos da Floresta Zika, em Uganda. Entretanto, somente em 1954, os primeiros casos em seres humanos foram relatados, na Nigéria. Esse vírus atingiu a Oceania em 2007 e a Polinésia Francesa no ano de 2013. O Brasil notificou os primeiros casos de Zika vírus em 2015, no Rio Grande do Norte e na Bahia. Atualmente, sua presença já está documentada em cerca de 70 países. A

seguir, tem-se a representação gráfica do aumento de casos no Brasil no período entre novembro de 2015 a fevereiro de 2016.



Pode-se afirmar que a porcentagem do aumento de casos de Zika Vírus no período de novembro/2015 a fevereiro/ 2016 é de aproximadamente:

- a) () 209,09%
- b) () 309,09%
- c) () 409,09%
- d) () 509,09%

QUESTÃO 14

Albert Einstein previu, no século passado, que se as abelhas desaparecessem da superfície da Terra, o homem teria apenas mais quatro anos de vida. A morte em grande escala desse animal, interpretada como apocalíptica na época, é hoje um alerta real. Desde o começo do século, casos de morte e sumiço de abelhas são registrados nos Estados Unidos e na Europa. No Brasil, estudiosos destacam episódios alarmantes a partir de 2005. Agora, o fenômeno parece chegar ao ápice. Nos últimos três meses, mais de 500 milhões de abelhas foram encontradas mortas por apicultores apenas em quatro estados brasileiros, segundo levantamento da Agência Pública e Repórter Brasil.

(Fonte: <https://envolverde.cartacapital.com.br/apicultores-brasileiros-encontram-meio-bilhao-de-abelhas-mortas-em-tres-meses/>).

Em 2018, pesquisas realizadas por Apicultores da Região Sul do Brasil constataram que, devido à grande presença de agrotóxicos neonicotinoides (principais inimigos das abelhas), a população P de determinada espécie de abelhas morre segundo a função $P(t) = 250 \cdot 2^t$, onde t está medido em minutos. O tempo necessário para que o agrotóxico elimine 2000 abelhas é de:

- a) () 3 minutos.
- b) () 4 minutos.
- c) () 5 minutos.
- d) () 6 minutos.

QUESTÃO 15

Segundo a ABRE - Associação Brasileira de Embalagens, a embalagem é o principal elemento de conexão e de comunicação entre o consumidor, o produto e a marca. É um dos principais fatores que impulsionam a venda do produto. Se a embalagem não for condizente com o produto, não chamar a atenção de quem o compra, a chance do consumidor não perceber o produto é maior.

(Fonte: <https://o3design.com.br/a-importancia-da-embalagem/>).

O Boticário é uma das grandes marcas brasileiras que mais investe em design de suas embalagens. Dentre os mais variados produtos de grande sucesso está o Lily Creme Acetinado Hidratante Desodorante Corporal, com manteiga de karité, que promove uma hidratação intensa de rápida absorção, deixando a pele macia e acetinada. Atualmente, a embalagem desse produto é uma caixa de vidro no formato de um cubo de lado 12 cm. Considerando essas dimensões, pode-se afirmar que o volume de creme hidratante dentro dessa caixa é de:

- a) () 24 ml.
- b) () 720 ml.
- c) () 1440 ml.
- d) () 1728 ml.

QUESTÃO 16

A Superintendência de Proteção aos Direitos do Consumidor (Procon Goiás) monitora periodicamente os preços de combustíveis em postos de todo o estado. A tabela a seguir foi construída com base na tomada de preços a cada 10 dias em um posto da capital do estado.

Gasolina	4,37	4,48	4,56	4,89	4,66	4,78
Álcool	2,88	2,78	2,67	2,67	2,88	2,99

(Fonte: <https://www.emaisgoias.com.br/procon-goias-e-mp-investigam-possivel-reajuste-abusivo-no-preco-do-combustivel/>).

O preço médio da gasolina e do álcool nesse período é de:

- a) () R\$ 4,54 e R\$ 2,06.
- b) () R\$ 4,62 e R\$ 2,81.
- c) () R\$ 4,71 e R\$ 2,70.
- d) () R\$ 4,48 e R\$ 2,66.

QUESTÃO 17

Alguns processos judiciais costumam levar meses ou anos para se resolverem. Nos casos em que a pessoa tem pressa para resolver a sua situação, os acordos judiciais podem ser de grande ajuda. Buscando agilizar a solução de casos com uma proposta adequada a ambas as partes, os acordos poupam as pessoas envolvidas dos longos prazos de recursos e periódicas análises a serem realizadas pelo juiz. Os advogados de um determinado sindicato, em uma audiência com o juiz de causas trabalhistas, apresentaram a seguinte proposta de acordo: uma indenização de R\$ 60.000,00 e multa de R\$ 2,00 (que dobraria a cada dia de atraso). Qual é o número de dias para que essa multa atinja a quantia de R\$ 1.000.000,00? (Considere $\log 2 = 0,30$).

- a) () 10 dias
- b) () 20 dias.
- c) () 30 dias.
- d) () 40 dias.

QUESTÃO 18

O vício em games é um tipo de vício comportamental em que a pessoa deixa de fazer suas atividades diárias para ficar jogando, o que compromete atividades básicas do cotidiano, como higiene pessoal, alimentação, trabalho e/ou estudos, vida social etc. Além disso, a pessoa chega ao ponto em que continua ou aumenta a frequência do jogar apesar da ocorrência de consequências negativas. Esse descontrole do ato de jogar deve ser recorrente por mais de 12 meses. Pessoas que conseguem se focar nas outras atividades e se desligar do jogo não entram nesta categoria.

(Fonte: <https://www.minhavidade.com.br/saude/temas/vicio-em-games>).

Alguns jogos de games são tão envolventes que o jogador não se dá conta do tempo investido para encerrar todas as fases. Considera-se que o tempo para superar todas as fases de um game é dado pela função $T(t) = 6t^3 + 12t^2 - 12t + 8$, onde t é em horas por dia. Sabe-se que o jogador vencedor jogava durante 4 horas por dia. Nessas condições, foram necessários aproximadamente quantos dias para superar todas as fases?

- a) () 8
- b) () 18
- c) () 22
- d) () 32

QUESTÃO 19

Na empresa de cosméticos do Sr. Antônio Goulart, no setor de expedição, 10 carregadores, trabalhando em um mesmo ritmo, carregam 50 caixas em 1 hora. Em quanto tempo 8 carregadores, trabalhando nesse mesmo ritmo, carregam 40 caixas?

- a) () 1 hora.
- b) () 30 minutos.
- c) () 2 horas.
- d) () 2 horas e 30 minutos.

QUESTÃO 20

O atual sistema financeiro utiliza o regime de juros compostos, pois ele oferece uma maior rentabilidade se comparado ao regime de juros simples, em que o valor dos rendimentos torna-se fixo. O juro composto incide mês a mês de acordo com o somatório acumulativo do capital com o rendimento mensal, isto é, prática do juro sobre juro. As modalidades de investimentos e financiamentos são calculadas de acordo com esse modelo de investimento, pois ele oferece um maior rendimento e, conseqüentemente, mais lucro.

A expressão matemática que permite calcular o valor do montante (valor acumulado) no regime de capitalização composta é

$$M = C(1 + i)^t, \text{ onde:}$$

M = montante

C = capital

i = taxa

t = tempo

Determine o valor do montante produzido por um capital de R\$ 3.000,00, aplicado a juros compostos de 5% ao mês, durante um ano. Considere $1,05^{12} = 1,8$.

- a) () R\$ 3.800,00
- b) () R\$ 4.300,00
- c) () R\$ 4.950,00
- d) () R\$ 5.400,00

QUESTÃO 21

Os jogos de azar são jogos nos quais os que têm sorte são os que ganham com o azar dos outros jogadores, devido à diferença de probabilidades entre a sorte e o azar. Como as chances da sorte são escassas, são muitos mais os que têm azar, daí que tais jogos são sustentáveis através das perdas dos jogadores que financiam os que vão ter a sorte. A sorte de ganhar ou perder não depende da habilidade do jogador, mas exclusivamente de uma contingência natural baseada numa realidade produzida chamada de

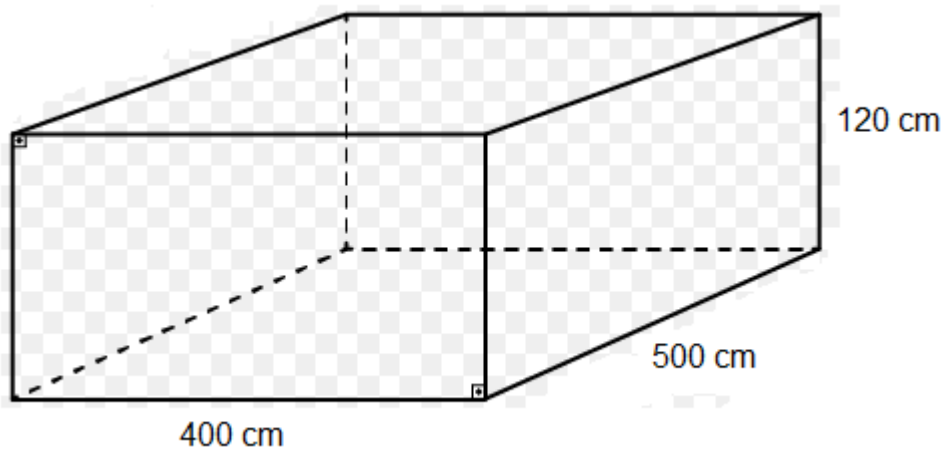
probabilidade matemática.

Lançando um dado duas vezes, qual é a probabilidade de se obter número ímpar no primeiro e no segundo lançamento?

- a) () 25%
- b) () 50%
- c) () 75%
- d) () 100%

QUESTÃO 22

Carlos e Ana Paula, casados há 10 anos, acabam de realizar o sonho de construir uma piscina no quintal de casa. As dimensões da piscina estão representadas na figura a seguir:



O valor do litro de água praticado pela Companhia de Abastecimento de Água da cidade de Carlos e Ana é de R\$ 0,05. Qual é o valor gasto para encher completamente a piscina com água fornecida por essa companhia?

- a) () R\$ 500,00
- b) () R\$ 600,00
- c) () R\$ 1.200,00
- d) () R\$ 1.800,00

QUESTÃO 23

A água é fonte da vida. Não importa quem somos, o que fazemos, onde vivemos, nós dependemos dela para viver. No entanto, por maior que seja a importância da água, as pessoas continuam poluindo os rios e destruindo as nascentes, esquecendo o quanto ela é essencial para nossas vidas.

A água é, provavelmente, o único recurso natural que tem a ver com todos os aspectos da civilização humana, desde o desenvolvimento agrícola e industrial aos valores culturais e religiosos arraigados na sociedade.

No Brasil, em lugares onde a quantidade de água é escassa, a população utiliza cisternas para captação e armazenamento da água da chuva.

No esvaziamento de uma determinada cisterna contendo água da chuva, a expressão

$$V(t) = -\frac{1}{450}t^2 + 2$$

representa o volume (em m³) de água presente no tanque no instante t (em minutos). Qual é o tempo necessário para que o tanque seja esvaziado?

- a) () 10 minutos.
- b) () 20 minutos.
- c) () 30 minutos.
- d) () 40 minutos.

QUESTÃO 24

Em uma determinada loja de roupas, o salário mensal de cada vendedor (a) é determinado da seguinte forma:

- Valor fixo de R\$ 940,00;
- Comissão de 3% sobre o total da venda .

Qual será o salário de uma vendedora que fechou o mês com um valor total de vendas de R\$ 34.000,00?

- a) () R\$ 1.540,00.
- b) () R\$ 1.630,00.
- c) () R\$ 1.870,00.
- d) () R\$ 1.960,00.

CONHECIMENTOS ESPECÍFICOS

QUESTÃO 25

Em relação aos princípios filosóficos da Teoria do Yang e do Yin da Medicina Tradicional Chinesa (MTC), fazem-se as seguintes afirmações:

I – Yang e Yin são princípios essenciais à existência de tudo o que existe no universo. O Yang somente pode existir na presença do Yin e vice-versa, e é esta dualidade que determina a origem de tudo na natureza, incluindo a vida.

II – Existe uma inter-relação entre energia e massa, tal como pode ser verificado na equação da Teoria da Relatividade de Einstein ($E = m \times c^2$), que propicia harmonia e equilíbrio no funcionamento do universo em geral. O desequilíbrio energético pode modificar esta situação e ocasionar desde mudanças climáticas até favorecer o aparecimento de doenças orgânicas.

III – O Yang representa todos os aspectos que se caracterizam por atividade, tais como calor, movimento, claridade, força, expansão, explosão, polaridade positiva, posição “alto”, sol, homem e, na equação de Einstein ($E = m \times c^2$), o Yang equivale à energia (E).

IV – O Yin é o oposto do Yang, representando frio, escuridão, repouso, retração, implosão, polaridade negativa, posição “baixo”, Terra, mulher e, na equação de Einstein ($E = m \times c^2$), o Yin equivale à massa (m).

Assinale a alternativa correta:

- a) () Todas as alternativas estão corretas.
- b) () Todas as alternativas estão incorretas.
- c) () Somente as alternativas I e II estão corretas.
- d) () Somente as alternativas I, II e III estão corretas.

QUESTÃO 26

Em relação à Teoria dos Cinco Elementos (Pentagrama), analise as seguintes afirmações:

I – Os cinco elementos Madeira, Fogo, Terra, Metal e Água representam os elementos básicos presentes na natureza, com interdependência e inter-restrição que determinam seus estados de constante movimento e mutação.

II – O Pentagrama representa um guia prático para a formulação do tratamento com acupuntura, porque todos os fenômenos dos tecidos e órgãos, da fisiologia e da patologia do corpo humano, estão classificados e são interpretados pelas inter-relações desses elementos.

III – O Pentagrama correlaciona elementos da natureza com os diversos canais de energia do organismo (meridianos), representados por órgãos (Yin) e vísceras (Yang), estações climáticas, fatores climáticos, tecidos e vísceras corporais, emoções, gostos (sabor), cor e som.

IV – No caso de o meridiano Coração, que é Fogo, apresentar deficiência de Qi, pode-se tonificar o próprio meridiano Coração ou o meridiano Fígado, sua Mãe, que é Madeira.

Assinale a alternativa correta:

- a) () Todas as alternativas estão corretas.
- b) () Todas as alternativas estão incorretas.
- c) () Somente as alternativas I, II e III estão corretas.
- d) () Somente as alternativas II e IV estão corretas.

QUESTÃO 27

Considerando as relações de geração e de inibição dos cinco elementos do Pentagrama, assinale a alternativa correta:

- a) () A Madeira gera a Terra.
- b) () A Terra gera a Água.
- c) () A Madeira inibe a Terra.
- d) () O Metal inibe o Fogo.

QUESTÃO 28

Todos os meridianos se interligam de forma complexa, e os fluxos de energia (Qi), sangue (Xue), nutrição (Ying) e defesa (Wei) são ordenados e seguem trajetos específicos, conforme apresentado na literatura da MTC. Em relação às alternativas abaixo, marque a incorreta:

- a) () Os meridianos Yin dos membros superiores (Pulmão/ Pericárdio ou Circulação e Sexualidade/ Coração) percorrem a face palmar do braço.
- b) () Os meridianos Yang dos membros superiores (Intestino Grosso/ Triplo Aquecedor/ Intestino Delgado) percorrem a face dorsal do braço.
- c) () Os meridianos Yin dos membros inferiores (Baço-Pâncreas/ Fígado/ Rim) percorrem a face lateral e dorsal da perna e da coxa.
- d) () Os meridianos Yang dos membros inferiores (Estômago, Vesícula Biliar e Bexiga) percorrem a face lateral e dorsal da perna e da coxa.

QUESTÃO 29

Leia a descrição abaixo:

“A MTC considera este órgão como sendo o primeiro a ser tocado pela vida, no ato da respiração, no qual o ser é banhado pela energia cósmica e dá início à vida. O órgão em questão é considerado ímpar na MTC e possui a principal função de dirigir o Qi. O meridiano correspondente a este órgão é Yin, com 11 acupontos, bilaterais, em seu trajeto externo, com sentido energético centrífugo, que vai desde o tórax até o polegar”.

Assinale a alternativa correta:

- a) () Meridiano Pulmão.
- b) () Meridiano Coração.
- c) () Meridiano Fígado.
- d) () Meridiano Rim.

QUESTÃO 30

Marque a alternativa que contenha os meridianos que apresentam trajetos externos centrípetos:

- a) () Pulmão, Estômago e Baço-Pâncreas.
- b) () Bexiga, Vesícula Biliar e Pericárdio.
- c) () Intestino Grosso, Baço-Pâncreas e Pulmão.
- d) () Rim, Intestino Delgado e Fígado.

QUESTÃO 31

Na antiguidade eram utilizados materiais rudimentares, tais como: espinhos de peixe, lascas de pedras e de bambus, fogo como forma de cauterização e massagem, para a estimulação do acuponto, a fim de promover reequilíbrio das funções por mecanismos de sedação ou tonificação. Atualmente, têm-se utilizado outros materiais, descritos nas questões abaixo, EXCETO:

- a) () Agulhas, ventosaterapia, magnetoterapia e moxabustão.
- b) () Agulhas, eletroacupuntura, laserpuntura e pressão.
- c) () Magnetoterapia, ventosaterapia, laserterapia e agulhas.
- d) () Agulhas, laserterapia, magnetoterapia e terapia por ondas de choque extracorpórea.

QUESTÃO 32

Marque a alternativa que contenha a descrição incorreta dos pontos Wu Shu (antigos) dos meridianos Coração (Zang/Yin), Intestino Delgado (Fu/Yang), Baço-Pâncreas (Zang/Yin) e Estômago (Fu/Yang):

- a) () Pontos Wu Shu do meridiano Coração (P11, P10, P9, P8 e P5).
- b) () Pontos Wu Shu do meridiano Intestino Delgado (ID1, ID2, ID3, ID5 e ID8).
- c) () Pontos Wu Shu do meridiano Baço-Pâncreas (BP1, BP2, BP3, BP6 e BP9).
- d) () Pontos Wu Shu do meridiano Estômago (E45, E44, E43, E41 e E36).

QUESTÃO 33

Marque a alternativa que contenha os três meridianos Yin da mão e seus respectivos pontos de tonificação, sem levar em conta o ciclo estacional.

- a) () Pulmão (P9), Pericárdio (PC9) e Coração (C9).
- b) () Baço-Pâncreas (BP2), Fígado (F8) e Rim (R7).
- c) () Intestino Grosso (IG11), Triplo Aquecedor (TA3) e Intestino Delgado (ID3).
- d) () Estômago (E41), Vesícula Biliar (VB44) e Bexiga (B67).

QUESTÃO 34

Marque a alternativa que contenha os três meridianos Yang do pé e seus respectivos pontos de sedação, sem levar em conta o ciclo estacional.

- a) () Pulmão (P5), Pericárdio (PC7) e Coração (C7).
- b) () Baço-Pâncreas (BP5), Fígado (F2) e Rim (R1).
- c) () Intestino Grosso (IG2), Triplo Aquecedor (TA10) e Intestino Delgado (ID8).
- d) () Estômago (E45), Vesícula Biliar (VB38) e Bexiga (B65).

QUESTÃO 35

No intuito de equilibrar uma função orgânica, por meio da acupuntura, pode-se utilizar pontos de tonificação ou sedação energética ou tratar os meridianos por meio de seus pontos fontes, os quais podem normalizar a energia insuficiente ou em excesso de um meridiano. Leia as questões abaixo e marque a alternativa que contenha os pontos fontes dos doze meridianos ordinários:

- a) () C7, ID4, P8, IG4, F3, VB40, BP3, E42, R3, B64, PC7 e TA4.
- b) () C7, ID4, P9, IG4, F3, VB40, BP3, E42, R3, B64, PC7 e TA4.
- c) () C7, ID4, P9, IG5, F3, VB40, BP3, E42, R3, B64, PC7 e TA4.
- d) () C7, ID4, P9, IG4, F3, VB40, BP3, E42, R3, B64, PC7 e TA5.

QUESTÃO 36

Marque a alternativa que contenha os pontos de tonificação e sedação do meridiano Rim, considerando o ciclo estacional primavera (18 de agosto a 29 de outubro):

- a) () Ponto de tonificação R10 e ponto de sedação R2.
- b) () Ponto de tonificação R1 e ponto de sedação R3.
- c) () Ponto de tonificação R2 e ponto de sedação R7.
- d) () Ponto de tonificação R3 e ponto de sedação R10.

QUESTÃO 37

Marque a alternativa que contenha a correlação correta dos elementos do Pentagrama com suas emoções:

- a) () Madeira (Zanga ou Raiva), Fogo (Alegria), Terra (Pensamento), Metal (Preocupação) e Água (Medo).
- b) () Madeira (Zanga ou Raiva), Fogo (Alegria), Terra (Preocupação), Metal (Pensamento) e Água (Medo).
- c) () Madeira (Zanga ou Raiva), Fogo (Medo), Terra (Pensamento), Metal (Preocupação) e Água (Alegria).
- d) () Madeira (Zanga ou Raiva), Fogo (Pensamento), Terra (Alegria), Metal (Preocupação) e Água (Medo).

QUESTÃO 38

Marque a alternativa que contenha o ponto Jing (King) do meridiano Bexiga, pertencente ao elemento Fogo, utilizado com finalidade analgésica em geral e no tratamento das seguintes indicações: dor de cabeça, rigidez na nuca, lombalgia, dor ciática, dor no cóccix, dor e inchaço no tornozelo e nos distúrbios do parto:

- a) () B67.
- b) () B66.
- c) () B65.
- d) () B60.

QUESTÃO 39

Além dos meridianos ordinários, o corpo humano possui também os meridianos secundários, que são vias auxiliares na distribuição de energia, em níveis superficiais, profundos, internos e externos, das diversas áreas do corpo. Leia as questões abaixo e marque a alternativa que não contenha um exemplo de meridiano secundário:

- a) () Meridianos Curiosos ou Irregulares também chamados de Vasos Maravilhosos.
- b) () Meridianos de Passagem – LO.
- c) () Meridianos Colaterais (Distintos) e Meridianos Ligamentares (Tendíneo-Musculares).
- d) () Meridianos Triplo Aquecedor e do Pericárdio.

QUESTÃO 40

Em relação aos Meridianos Curiosos ou também chamados de Irregulares e Vasos Maravilhosos, analise as afirmações:

I – Os oito Vasos Maravilhosos são: Vaso da Conceção (VC), Vaso Governador (VG), Vaso sob Maléolo Interno (Meridiano da Motilidade de Yin), Vaso sob Maléolo Externo (Meridiano da Motilidade do Yang), Cadeia dos Inn Wei-Mai (Meridiano regular do Yin), Cadeias dos Yang (Meridianos regulares do Yang), Vaso dos Ataques (Meridiano da Vitalidade) e Vaso da Cintura (Dai-Mai).

II – Alguns dos pontos destes meridianos estão situados nas duas linhas medianas do corpo e outros nos meridianos ordinários, sendo que cada um dos oito meridianos possui um ponto de comando situado em um meridiano ordinário.

III – Estes meridianos irrigam os espaços compreendidos entre os meridianos ordinários, conduzem e transportam energia ancestral dos Rins para diferentes partes do corpo e para os meridianos ordinários, recebendo energia Yang (nutridora) e Oe (defensiva), provendo a circulação das 3 energias Yang, Oe e Ancestral.

IV – Os 8 vasos possuem ação mútua, com atividades reguladoras específicas em determinados grupos de doenças, nos quais é estimulada uma dupla de pontos de comando, localizados, respectivamente, nos membros superiores e nos membros inferiores.

Assinale a alternativa correta:

- a) () Todas as alternativas estão corretas.
- b) () Todas as alternativas estão incorretas.
- c) () Somente as alternativas I, II e III estão corretas.
- d) () Somente as alternativas II, III e IV estão corretas.

QUESTÃO 41

Leia o texto abaixo e marque a alternativa que contenha a Dupla de Vasos Maravilhosos que pode ser utilizada para o tratamento destas condições.

“Trata-se de uma Dupla de Vasos Maravilhosos aceleradora da cadeia dos Yang, atuando com eficácia no tratamento de síndromes reumáticas agudas, síndromes neurológicas, dermatoses e zumbidos nos ouvidos”.

Assinale a alternativa correta:

- a) () TA5 – VB41.
- b) () ID3 – B62.
- c) () P7 – R6.
- d) () BP4 – PC6.

QUESTÃO 42

O acuponto Zusanli (E36) do meridiano Estômago é um ponto Ho, bastante utilizado nos tratamentos de acupuntura, pertencente ao elemento Terra, localizado a 3 polegadas abaixo da patela entre o músculo tibial anterior e o músculo extensor longo dos dedos. Marque a alternativa que não contém uma indicação para a utilização deste ponto:

- a) () Insônia.
- b) () Gastrite.
- c) () Fortalecimento geral.
- d) () Paralisia facial.

QUESTÃO 43

A MTC classifica a cefaleia em 4 tipos: cefaleia Shao Yang, cefaleia Tai Yang, cefaleia Jue Yin e cefaleia Yang Ming, e os mecanismos envolvidos no seu desenvolvimento têm dois quadros diagnósticos: por meridiano, com base na localização e trajeto da dor; ou por síndrome, a qual depende de fatores externos ou internos e características da dor. As síndromes podem ser devido ao excesso ou déficit em geral, em que as síndromes por excesso correspondem, na maioria dos casos, às enxaquecas, e as síndromes por déficit correlacionam-se às cefaleias do tipo tensional. Considerando os preceitos, a classificação e o tratamento da cefaleia perante a visão da MTC, analise as afirmações:

I – A cefaleia Shao Yang é um tipo de enxaqueca que pode estar associada com enjoô, vômitos, gastrite, distúrbios emocionais, raiva, insônia, fotofobia e intolerância ao barulho. Trata-se de uma síndrome de plenitude do Fígado, com aparecimento de Vento interno e estagnação de Qi e Xue no meridiano Vesícula Biliar, ao nível das têmperas.

II – Na cefaleia Tai Yang, a dor manifesta-se no topo da cabeça e irradia para a nuca, tendo como causa o meridiano Bexiga, pelo vazio de Qi dos Rins. Os pontos que podem ser utilizados no seu tratamento são os seguintes: VG19, VG20, VG21, B2, B7, B10, VB20, B60, F3 e TA3. Além disso, é importante fazer circular o Qi no canal Tai Yang, usando os pontos ID2, ID3, B65 e B66 e fortalecer o Rim, por meio dos pontos R7 e VC4.

III – Na cefaleia Jue Yin, a dor é insidiosa, profunda e contínua, ocasionando um aspecto de “dor em capacete”, que inicia ao acordar e no decorrer do dia desaparece ou atenua. Dentre as várias opções de tratamento que podem ser utilizadas na acupuntura, para este tipo de cefaleia, uma delas é o fortalecimento (tonificação) do Qi do Fígado com os pontos F3 e B18.

IV – Na cefaleia Yang Ming, o meridiano acometido é o do Estômago, podendo haver dor à palpação no ponto de reunião dos canais de energia Yang do pé, ID18, E8 e pontos Ashi. O acupunturista pode utilizar estes mesmos pontos no tratamento desta condição e o E41 para tonificar o meridiano Estômago.

Assinale a alternativa correta:

- a) () Todas as alternativas estão corretas.
- b) () Todas as alternativas estão incorretas.
- c) () Somente as alternativas I, III e IV estão corretas.
- d) () Somente as alternativas I e IV estão corretas.

QUESTÃO 44

Marque a alternativa que contenha o fator etiológico da Hipertensão Arterial, segundo a MTC:

- a) () Desequilíbrio energético do Yin e Yang do Coração e Triplo Aquecedor com a presença de secura.
- b) () Desequilíbrio energético do Yin e Yang do Rim e Fígado ou ainda com a presença de fleuma (mucosidade) e umidade.
- c) () Desequilíbrio energético do Yin e Yang do Pulmão e Bexiga ou ainda com a presença de fleuma e umidade.
- d) () Desequilíbrio energético do Yin e Yang do Rim e Coração ou ainda com a presença de secura e vento.

QUESTÃO 45

Marque a alternativa que contenha somente exemplos de métodos diagnósticos que são feitos pela MTC:

- a) () Observação, ausculta, palpação, anamnese e moxabustão.
- b) () Observação, pulso, língua, anamnese e ventosaterapia.
- c) () Pulso, língua, anamnese, ausculta e observação.
- d) () Pulso, observação, ausculta, percussão e gua sha.

QUESTÃO 46

Em relação às características e funções do meridiano Fígado, assinale a alternativa incorreta:

- a) () Harmoniza o fluxo livre de Qi.
- b) () Armazena o Xue.
- c) () Abre nos olhos, manifesta-se nas unhas e harmoniza os tendões.
- d) () Comanda o Estômago, o Duodeno e as funções digestivas transformadoras dos alimentos.

QUESTÃO 47

Em relação à Artrite Reumatoide (AR), analise as afirmações:

I – Sob o ponto de vista da MTC, a AR enquadra-se num padrão misto de Síndrome de Obstrução Dolorosa, do tipo Vento ou Móvel, tipo Úmido, tipo Frio, Tipo Calor ou do tipo Óssea.

II – É causada pela invasão do Vento, manifestando-se com hipersensibilidade, dor muscular e de caráter migratório a nível articular, com limitação dos movimentos.

III – Nos casos agudos, o pulso é flutuante e muito lento.

IV – A deficiência de Fígado e Rim tem grande importância nesta síndrome.

Assinale a alternativa correta:

- a) () Todas as alternativas estão corretas.
- b) () Todas as alternativas estão incorretas.
- c) () Somente as alternativas I, II e IV estão corretas.
- d) () Somente as alternativas II e IV estão corretas.

QUESTÃO 48

Marque a alternativa que contenha o nome da síndrome presente nos indivíduos com Artrite Reumatoide (AR), na qual as articulações e os meridianos são obstruídos por fleuma, gerando atrofia muscular, inchaço e deformidade dos ossos articulares. Há estase de sangue causada pela obstrução da circulação de Qi, Xue, Jin Ye e fleuma, ocasionando dor e rigidez.

- a) () Síndrome Qi óssea.
- b) () Síndrome Bi óssea.
- c) () Síndrome Qi musculoesquelética.
- d) () Síndrome Pi articular.

QUESTÃO 49

Marque a alternativa que contenha os meridianos que mais comumente são tratados (sedados ou tonificados) na lombalgia, de acordo com a MTC:

- a) () Coração e Pulmão.
- b) () Intestino Delgado e Pericárdio.
- c) () Rim e Bexiga.
- d) () Vesícula Biliar e Baço-Pâncreas.

QUESTÃO 50

De acordo com a MTC, a lombalgia é um tipo de síndrome de deficiência de Yin e excesso de Yang, cujos sinais e sintomas podem ser os seguintes:

- a) () Calor, rubor facial, boca seca, palmas e plantas dos pés quentes.
- b) () Ansiedade, sudorese, obstipação, frio e língua esbranquiçada.
- c) () Ansiedade, frio, boca úmida e língua esbranquiçada.
- d) () Calor, rubor facial, boca úmida, frio e língua esbranquiçada.

QUESTÃO 51

Na MTC o Acidente Vascular Encefálico (AVE) é conhecido como:

- a) () Deficiência de Xue.
- b) () Wei Qi (Lesão da Imunidade).
- c) () Zhong Feng (Lesão pelo Vento).
- d) () Excesso de calor ou de Yang do Fígado.

QUESTÃO 52

O Acidente Vascular Encefálico (AVE) constitui a segunda maior causa de mortes no mundo e no Brasil, estando correlacionado com as doenças cardiovasculares em 40% dos casos, no qual cerca da metade dos sobreviventes apresentam sequelas como a hemiplegia. Como parte do fenômeno da globalização, o tratamento desta condição pode envolver conhecimentos e terapêuticas milenares da MTC e da Medicina Oriental (MO). Segundo a MTC, quatro padrões principais estão ligados à sua ocorrência:

- a) () Retenção de fleuma, retenção de calor, deficiência de Qi e Xue e deficiência de Yin.
- b) () Excesso de secura, retenção de frio, deficiência de Qi e Xue e deficiência de Yang.
- c) () Retenção de fleuma, retenção de frio, deficiência de Qi e Xue e deficiência de Yin.
- d) () Retenção de fleuma, retenção de calor, deficiência de Qi e Xue e deficiência de Yang.

QUESTÃO 53

A acupuntura tem sido utilizada como tratamento complementar da Doença de Parkinson (DP) para o alívio dos sintomas. Dentre as opções abaixo, marque aquela que não representa um benefício advindo do tratamento desta condição com acupuntura.

- a) () Melhora da motricidade.
- b) () Redução dos tremores.
- c) () Melhora do sono.
- d) () Melhora da fala.

QUESTÃO 54

Sobre o tratamento da Doença de Parkinson (DP), segundo a MTC, analise as afirmações:

I – A DP manifesta-se com sintomas de “tremores” (Chan Zheng), estando relacionada com a desarmonia energética do meridiano Fígado. Os tremores podem ser causados por Qi deficiente, incapaz de atrair fluidos e Xue para nutrir tendões e meridianos, Umidade-Fogo obstruindo canais e Qi original deficiente, facilitando a invasão de fatores patogênicos nos meridianos.

II – Os acupontos que podem ser utilizados no tratamento da DP são: VG20, VG14, VB20, IG4, F3, IG11 (para o controle de tremores dos membros superiores), TA5 (para o controle de tremores de membros inferiores), VB34 e VB9.

III – O ponto VB20 é um ponto bastante utilizado no tratamento desta condição, cuja estimulação aumenta a concentração de dopamina na fenda sináptica, melhorando o desempenho motor.

IV – Nesta condição pode-se aplicar moxa no B17.

Assinale a alternativa correta:

- a) () Todas as alternativas estão corretas.
- b) () Todas as alternativas estão incorretas.
- c) () Somente as alternativas II, III e IV estão corretas.
- d) () Somente as alternativas I, II e IV estão corretas.

QUESTÃO 55

Segundo a MTC, a etiologia da fibromialgia está relacionada com a deficiência de Qi e Xue, presença excessiva de fleuma nas articulações, estase de Xue e deficiência, principalmente, em dois meridianos. A etiopatogenia compreende fatores exógenos e endógenos. O primeiro caracteriza-se pela invasão de vento, frio e ou umidade e, no segundo caso, emoções como raiva, ressentimento, tristeza, pesar e trauma. Marque a questão que contenha os dois meridianos que, em situação de desequilíbrio energético, podem ocasionar a fibromialgia e que devem ser tratados para o controle dos sintomas desta patologia.

- a) () Coração e Pulmão.
- b) () Rim e Pulmão.
- c) () Rim e Fígado.
- d) () Baço-Pâncreas e Fígado.

QUESTÃO 56

Em relação à Paralisia Facial Periférica (PFP), analise as afirmações:

I – A PFP é caracterizada por uma lesão do nervo facial, estando comumente associada com o prejuízo do funcionamento das glândulas salivares e lacrimais, com a perda dos movimentos dos músculos da face e, também, com distúrbios auditivos. Dentre os tratamentos mais utilizados, encontram-se os corticosteroides, agentes antivirais, fisioterapia, acupuntura e descompressão cirúrgica.

II – Segundo a MTC, a PFP é ocasionada por uma obstrução na circulação de Qi e Xue nos meridianos Yin, que se estendem pela região facial, devido à invasão dos fatores patógenos e exógenos de Vento-Frio nesses meridianos.

III - O tratamento com acupuntura pode envolver pontos locais no lado afetado, com incremento da eletroacupuntura, e pontos distais, com incremento de moxa.

IV - A realização de eletroacupuntura nos pontos faciais E7 com E4 e B1 com Tai Yang, associados com a estimulação de outros acupontos gerais, tais como: VB20, TA17, IG4 e F3, promovem uma excelente recuperação motora dos músculos da face.

Assinale a alternativa correta:

- a) () Todas as alternativas estão corretas.
- b) () Todas as alternativas estão incorretas.
- c) () Somente as alternativas I, III e IV estão corretas.
- d) () Somente as alternativas I, II e III estão corretas.