



Concurso Público Edital n.001/2019 – Prefeitura Municipal de Rio Verde- GO

Caderno de questões - Psicólogo em Saúde Mental

DISCIPLINAS - Língua Portuguesa, Matemática, Conhecimentos Específicos.

INSTRUÇÕES

- * Não se comunique, em hipótese alguma, com outros candidatos.
- * Não é permitida a consulta a apontamentos, livros ou dicionários.
- * Solicite a presença do fiscal em caso de necessidade.
- * A prova consta de 56 questões, sendo 12 de Língua Portuguesa, 12 de Matemática e 32 de Conhecimentos Específicos, com 04 (quatro) proposições, A, B, C e D. O candidato deverá assinalar (X) na alternativa correta correspondente em cada questão, transportando depois o resultado para o Cartão-Resposta.
- * Para marcar no Cartão-Resposta, utilize caneta esferográfica de tinta azul ou preta.
- * Confira, no Cartão-Resposta, o número de sua inscrição, seu nome e assine no espaço adequado.
- * Em nenhuma hipótese será distribuída cópia do Cartão-Resposta, que é identificado eletronicamente.
- * Não serão consideradas as respostas que não forem transportadas para o Cartão-Resposta.
- * Verifique se o seu Caderno de Questões apresenta todas as folhas numeradas corretamente. Caso haja algum problema, comunique o fiscal de sala.

Cronograma (resumo) das principais datas referentes ao Concurso Público

Data	Ação/Evento
18/08/19	Divulgação dos Gabaritos Preliminares das Provas Objetivas.
23/08/19	Divulgação do Gabarito Oficial das Provas Objetivas.
30/08/19	Divulgação do Resultado Preliminar das Provas Objetivas.
13/09/19	Divulgação do Resultado Final das Provas Objetivas, após análise do(s) recurso(s).
16/09/19	Convocação dos candidatos aos cargos de nível superior classificados para apresentação dos documentos da Prova de Títulos.
30/09/19	Divulgação do Resultado Preliminar das Provas de Títulos (cargos de nível superior) e das Provas de Redação (cargos de nível médio/técnico).
09/10/19	Divulgação do Resultado Definitivo após a análise do(s) recurso(s) contra o resultado preliminar das Provas de Títulos (cargos de nível superior) e das Provas de Redação (cargos de nível médio/técnico).
10/10/19	Divulgação da Classificação Final do Concurso.

LÍNGUA PORTUGUESA

Leia o texto abaixo e responda às questões de 01 a 04.

Texto 1: Sermão de Santo Antônio aos peixes – Pe. Antônio Vieira

Vós, diz Cristo, Senhor nosso, falando com os pregadores, sois o sal da terra: e chama-lhes sal da terra, porque quer que façam na terra o que faz o sal. O efeito do sal é impedir a corrupção; mas quando a terra se vê tão corrupta como está a nossa, havendo tantos nela que têm ofício de sal, qual será, ou qual pode ser a causa desta corrupção? Ou é porque o sal não salga, ou porque a terra se não deixa salgar. Ou é porque o sal não salga, e os pregadores não pregam a verdadeira doutrina; ou porque a terra se não deixa salgar e os ouvintes, sendo verdadeira a doutrina que lhes dão, a não querem receber. Ou é porque o sal não salga, e os pregadores dizem uma cousa e fazem outra; ou porque a terra se não deixa salgar, e os ouvintes querem antes imitar o que eles fazem, que fazer o que dizem. Ou é porque o sal não salga, e os pregadores se pregam a si e não a Cristo; ou porque a terra se não deixa salgar, e os ouvintes, em vez de servir a Cristo, servem a seus apetites. Não é tudo isto verdade? Ainda mal!

Suposto, pois, que ou o sal não salgue ou a terra se não deixe salgar; que se há-de fazer a este sal e que se há-de fazer a esta terra? O que se há-de fazer ao sal que não salga, Cristo o disse logo: *Quod si sal evanuerit, in quo salietur? Ad nihilum valet ultra, nisi ut mittatur foras et conculcetur ab hominibus.* «Se o sal perder a substância e a virtude, e o pregador faltar à doutrina e ao exemplo, o que se lhe há-de fazer, é lançá-lo fora como inútil para que seja pisado de todos.» Quem se atrevera a dizer tal cousa, se o mesmo Cristo a não pronunciara? Assim como não há quem seja mais digno de reverência e de ser posto sobre a cabeça que o pregador que ensina e faz o que deve, assim é merecedor de todo o desprezo e de ser metido debaixo dos pés, o que com a palavra ou com a vida prega o contrário.

Disponível em:

<http://www.biblio.com.br/defaultz.asp?link=http://www.biblio.com.br/conteudo/padreantoniovieira/stoantonio.htm>

QUESTÃO 1

De acordo com o texto, assinale a alternativa correta:

- a) () Predomina a tipologia argumentativa, em que o autor expõe sua ideia de forma imparcial, prendendo-se ao caráter informativo do enunciado.
- b) () O autor faz uma série de analogias com a intenção de esclarecer o tema central: a importância do Evangelho.
- c) () Predomina a função poética da linguagem, uma vez que o autor dá maior realce à própria forma do texto do que ao conteúdo em si.
- d) () O autor inicia fazendo referência a um trecho do Evangelho construído em linguagem figurada (“sois o sal da terra”), para depois explicar o seu sentido aplicado à realidade local.

QUESTÃO 2

De acordo com texto, o autor defende a tese de que:

- a) () Se há corrupção em terra com tantos pregadores, deve haver algum problema com os pregadores ou com seus ouvintes.
- b) () O sal deve impedir a corrupção.
- c) () A corrupção dentro da Igreja afeta a população.
- d) () Os pregadores cumprem mal o seu papel porque não conseguem fazer com que seus fiéis corrijam seu comportamento.

QUESTÃO 3

De acordo com o texto, sobre os argumentos apresentados pelo autor, assinale a alternativa INCORRETA:

- a) () O autor levanta a hipótese de que os pregadores pregam uma doutrina falsa.

- b) () O autor levanta a hipótese de que pode haver dissonância entre o que dizem os pregadores e o que fazem.
- c) () O autor levanta a hipótese de que os ouvintes podem estar interessados na doutrina, mas não conseguem colocá-la em prática.
- d) () O autor levanta a hipótese de que a mensagem do Cristo pode não ser o verdadeiro foco nem de pregadores nem de ouvintes.

QUESTÃO 4

Sobre o segundo parágrafo do texto acima, assinale a alternativa INCORRETA:

- a) () Para reforçar sua posição, o autor lança mão de um argumento usado por Cristo.
- b) () Todo pregador que ensina e faz o seu dever merece ser respeitado.
- c) () O autor demonstra rejeição ao pregador cujo comportamento é contrário ao que prega.
- d) () Todo pregador equivale ao sal que não salga.

Leia o texto abaixo e responda às questões 05 e 06.

Texto 2

Eu tinha onze anos quando tio Baltazar chegou da primeira vez. Estava casado de novo, mas veio sozinho e com fama de muito rico. Relembrando aqueles tempos, meu pai me disse que depois de alguns dias aqui tio Baltazar pensou em desistir da Companhia e voltar. Agora eu pergunto de novo: se ele tivesse voltado naquela ocasião, será que ainda estaria vivo? E se ele não tivesse fundado a Companhia, será que teríamos passado por tudo o que passamos? Mas perguntar essas coisas agora é o mesmo que dizer que se o bezerro da vizinha não tivesse morrido ainda estaria vivo. Estou aqui para falar do que aconteceu, e não do que deixou de acontecer.

Tio Baltazar. Um nome, a fama, muitas fotografias — assim era que eu o conhecia. Parece que ele achava absolutamente necessário a pessoa tirar retrato todo mês, ou toda semana. Frequentemente mamãe recebia uma fotografia dele tirada em estúdio de retratista ou ao ar livre por algum amigo. Lembro-me especialmente de uma, tirada ao volante de um lustroso carro esporte que os entendidos aqui diziam ser de fabricação italiana e muito caro: tio Baltazar aparecia com o braço esquerdo descansando na porta do carro, o cabelo repartido no meio, camisa de gola aberta dobrada sobre o paletó xadrez igual aos que os artistas de cinema estavam usando, piteira com cigarro na boca, sorriso de rico no rosto simpático. Essa fotografia, com dedicatória para mamãe, fez o maior sucesso entre nossos amigos, além de vê-la muitos queriam mostrar a outros. Entre zelosa e vaidosa, mamãe emprestava; mas se a pessoa demorava a devolver, eu recebia a missão de ir buscá-la, um documento daquela importância não podia passar muito tempo em mãos profanas.

Se estou aqui para contar a verdade, não posso esconder o meu desapontamento quando vi tio Baltazar descendo do carro em nossa porta. No primeiro momento pensei que fosse outra pessoa, um amigo ou empregado. O cabelo era bem mais ralo e não estava mais repartido ao meio, acho que porque essa moda já tinha passado. E o rosto não era tão moço como o das fotografias. Mas o que me decepcionou mesmo, até me assustou, foi a falta de um braço. Onde estava o braço esquerdo que descansava na porta do carro na fotografia famosa? Vendo-o sair do carro ajudado pelo chofer, a manga vazia do paletó metida no bolso, a bela imagem de um tio campeão em muitos esportes virou fumaça ali mesmo. Eu já tinha visto pessoas sem perna, sem braço, sem mão, até um homem sem nariz eu vi de joelhos ao meu lado na igreja na Semana Santa: mas não eram meus tios. Fiquei tão decepcionado que fui me esconder no porão e nem apareci para o jantar. É difícil entender, mas pensando no meu procedimento naquele dia parece que eu acusava tio Baltazar de ter cortado o braço só para me humilhar diante de meus amigos.

(VEIGA, José J. **Sombras de reis barbudos**. Rio de Janeiro: Bertrand Brasil, 1989. p. 2-4).

QUESTÃO 5

Sobre o texto 2, assinale a alternativa correta:

- a) () O narrador é um adolescente que expressa seu ressentimento por ter sido humilhado pelo tio.
- b) () No início do trecho, o narrador tenta imaginar como teria sido aquela realidade caso decisões diferentes tivessem sido tomadas.
- c) () Inicialmente, o narrador não reconhece o tio quando o vê pessoalmente, confundido pela aparência mais envelhecida que o tio tinha nas fotografias.
- d) () O narrador já estava acostumado a ver pessoas sem partes do corpo, por isso não se impressionou quando viu o tio sem um braço.

QUESTÃO 6

Sobre o texto 2, assinale a alternativa INCORRETA:

- a) () As fotos enviadas pelo tio rico davam à mãe do narrador certa distinção na comunidade.
- b) () No trecho “tio Baltazar aparecia com o braço esquerdo descansando na porta do carro, o cabelo repartido no meio, camisa de gola aberta dobrada sobre o paletó xadrez igual aos que os artistas de cinema estavam usando, piteira com cigarro na boca, sorriso de rico no rosto simpático”, pode-se identificar tipologia textual descritiva, que predomina no texto como um todo.
- c) () O texto realça a distinção entre aparência e realidade, e como o contraponto entre as duas pode ser decepcionante.
- d) () Predomina no texto a função expressiva ou emotiva da linguagem.

Leia o texto abaixo e responda às questões 07 e 08.

Texto 3 - O homem trocado – Luís Fernando Veríssimo

O homem acorda da anestesia e olha em volta. Ainda está na sala de recuperação. Há uma enfermeira do seu lado. Ele pergunta se foi tudo bem.

- Tudo perfeito - diz a enfermeira, sorrindo.

- Eu estava com medo desta operação...

- Por quê? Não havia risco nenhum.

- Comigo, sempre há risco. Minha vida tem sido uma série de enganos...

Ele conta que os enganos começaram com seu nascimento. Houve uma troca de bebês no berçário e ele foi criado até os dez anos por um casal de orientais, que nunca entenderam o fato de terem um filho claro com olhos redondos. Descoberto o erro, ele fora viver com seus verdadeiros pais. Ou com sua verdadeira mãe, pois o pai abandonara a mulher depois que esta não soubera explicar o nascimento de um bebê chinês.

- E o meu nome? Outro engano.

- Seu nome não é Lírio?

- Era para ser Lauro. Se enganaram no cartório e...

Os enganos se sucediam. Na escola, vivia recebendo castigo pelo que não fazia. Fizera o vestibular com sucesso, mas não conseguira entrar na universidade. O computador se enganara, seu nome não apareceu na lista.

- Há anos que a minha conta do telefone vem com cifras incríveis. No mês passado tive que pagar mais de R\$ 3 mil.

- O senhor não faz chamadas interurbanas?

- Eu não tenho telefone!

Conhecera sua mulher por engano. Ela o confundira com outro. Não foram felizes.

- Por quê?

- Ela me enganava.

Fora preso por engano. Várias vezes. Recebia intimações para pagar dívidas que não fazia. Até tivera uma breve, louca alegria, quando ouvira o médico dizer:

- O senhor está desenganoado.

Mas também fora um engano do médico. Não era tão grave assim. Uma simples apendicite.

- Se você diz que a operação foi bem...

A enfermeira parou de sorrir.

- Apendicite? - perguntou, hesitante.

- É. A operação era para tirar o apêndice.

- Não era para trocar de sexo?

QUESTÃO 7

Considerando os mecanismos de coesão no texto 3, assinale a alternativa que apresenta correta correspondência entre o termo destacado e o respectivo elemento de referência.

- a) () “esta”, em “que esta não soubera explicar o nascimento de um bebê chinês”, refere-se a “mãe”.
- b) () “ela”, em “Ela o confundira com outro”, refere-se a “enfermeira”.
- c) () “que”, em “que não fazia”, refere-se a “intimações”.
- d) () “que”, em “que esta não soubera explicar o nascimento de um bebê chinês”, refere-se a “enfermeira”.

QUESTÃO 8

Em relação ao(s) tipo(s) de discurso, pode-se afirmar que o trecho abaixo está escrito em:

Fora preso por engano. Várias vezes. Recebia intimações para pagar dívidas que não fazia. Até tivera uma breve, louca alegria, quando ouvira o médico dizer:

- O senhor está desenganoado.

Mas também fora um engano do médico. Não era tão grave assim. Uma simples apendicite.

- Se você diz que a operação foi bem...

A enfermeira parou de sorrir.

- Apendicite? - perguntou, hesitante.

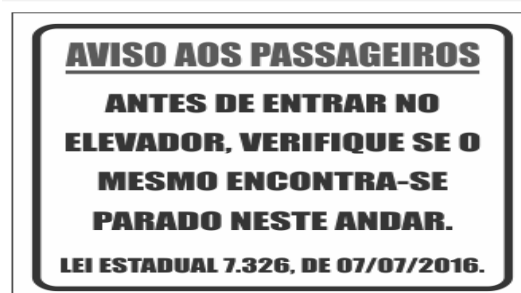
- É. A operação era para tirar o apêndice.

- Não era para trocar de sexo?

- a) () discurso direto.
- b) () discurso indireto.
- c) () discurso indireto livre.
- d) () discurso direto e indireto.

QUESTÃO 9

Leia a placa e assinale a alternativa correta:



- a) () Não se deve usar a palavra "mesmo" como pronome pessoal.
- b) () O vocábulo “mesmo” está corretamente utilizado (de acordo com a norma culta) como elemento substitutivo do substantivo “elevador”.

- c) () A palavra “mesmo” na placa desempenha a função de substantivo, cujo sentido se refere a “mesma coisa”.
- d) () O vocábulo “mesmo” se apresenta como advérbio (portanto, invariável), com o significado de “justamente, até, ainda, realmente”.

QUESTÃO 10

Assinale a alternativa correta em relação à concordância:

- a) () Houveram muitos protestos em relação à proposta de emenda constitucional.
- b) () A aquisição de novos equipamentos para o setor de produção trouxeram facilidades para os trabalhadores da indústria.
- c) () Depois de longas discussões entre os diplomatas, ainda prevalecia a desconfiança e o rancor.
- d) () Ela estava meia cansada após um longo dia de trabalho.

QUESTÃO 11

Em “Paulo se acusava pelo mau andamento dos negócios na empresa”, a voz do verbo é:

- a) () Passiva analítica.
- b) () Passiva sintética.
- c) () Reflexiva.
- d) () Ativa.

QUESTÃO 12

Leia a placa e assinale a alternativa correta:



Na placa, observa-se o emprego de uma regra de concordância nominal na construção “É proibido comer e beber nesta área”. Tal regra está sendo transgredida na seguinte opção:

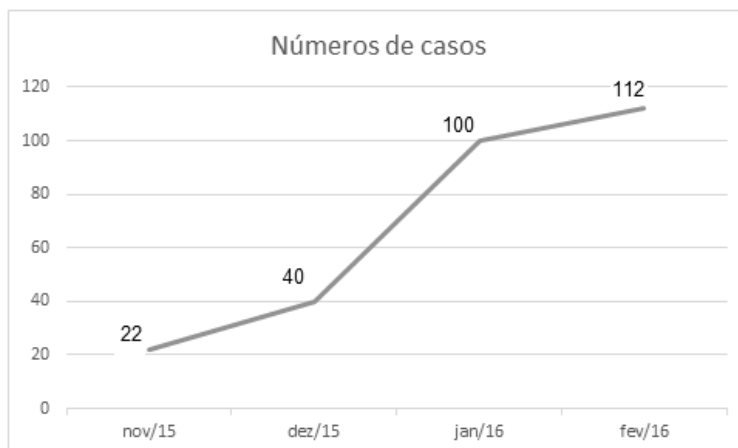
- a) () É proibida a entrada de menores.
- b) () É proibida alimentação de mamíferos.
- c) () É proibido circulação de pessoas.
- d) () É proibido uso de celulares.

MATEMÁTICA

QUESTÃO 13

O Zika Vírus (ZKV) é transmitido pelos mosquitos *Aedes aegypti* (o mesmo transmissor da dengue e da febre chikungunya) e o *Aedes albopictus*. O vírus Zika teve sua primeira aparição registrada em 1947, quando foi encontrado em macacos da Floresta Zika, em Uganda. Entretanto, somente em 1954, os primeiros casos em seres humanos foram relatados, na Nigéria. Esse vírus atingiu a Oceania em 2007 e a Polinésia Francesa no ano de 2013. O Brasil notificou os primeiros casos de Zika vírus em 2015, no Rio Grande do Norte e na Bahia. Atualmente, sua presença já está documentada em cerca de 70 países. A

seguir, tem-se a representação gráfica do aumento de casos no Brasil no período entre novembro de 2015 a fevereiro de 2016.



Pode-se afirmar que a porcentagem do aumento de casos de Zika Vírus no período de novembro/2015 a fevereiro/ 2016 é de aproximadamente:

- a) () 209,09%
- b) () 309,09%
- c) () 409,09%
- d) () 509,09%

QUESTÃO 14

Albert Einstein previu, no século passado, que se as abelhas desaparecessem da superfície da Terra, o homem teria apenas mais quatro anos de vida. A morte em grande escala desse animal, interpretada como apocalíptica na época, é hoje um alerta real. Desde o começo do século, casos de morte e sumiço de abelhas são registrados nos Estados Unidos e na Europa. No Brasil, estudiosos destacam episódios alarmantes a partir de 2005. Agora, o fenômeno parece chegar ao ápice. Nos últimos três meses, mais de 500 milhões de abelhas foram encontradas mortas por apicultores apenas em quatro estados brasileiros, segundo levantamento da Agência Pública e Repórter Brasil.

(Fonte: <https://envolverde.cartacapital.com.br/apicultores-brasileiros-encontram-meio-bilhao-de-abelhas-mortas-em-tres-meses/>).

Em 2018, pesquisas realizadas por Apicultores da Região Sul do Brasil constataram que, devido à grande presença de agrotóxicos neonicotinoides (principais inimigos das abelhas), a população P de determinada espécie de abelhas morre segundo a função $P(t) = 250 \cdot 2^t$, onde t está medido em minutos. O tempo necessário para que o agrotóxico elimine 2000 abelhas é de:

- a) () 3 minutos.
- b) () 4 minutos.
- c) () 5 minutos.
- d) () 6 minutos.

QUESTÃO 15

Segundo a ABRE - Associação Brasileira de Embalagens, a embalagem é o principal elemento de conexão e de comunicação entre o consumidor, o produto e a marca. É um dos principais fatores que impulsionam a venda do produto. Se a embalagem não for condizente com o produto, não chamar a atenção de quem o compra, a chance do consumidor não perceber o produto é maior.

(Fonte: <https://o3design.com.br/a-importancia-da-embalagem/>).

O Boticário é uma das grandes marcas brasileiras que mais investe em design de suas embalagens. Dentre os mais variados produtos de grande sucesso está o Lily Creme Acetinado Hidratante Desodorante Corporal, com manteiga de karité, que promove uma hidratação intensa de rápida absorção, deixando a pele macia e acetinada. Atualmente, a embalagem desse produto é uma caixa de vidro no formato de um cubo de lado 12 cm. Considerando essas dimensões, pode-se afirmar que o volume de creme hidratante dentro dessa caixa é de:

- a) () 24 ml.
- b) () 720 ml.
- c) () 1440 ml.
- d) () 1728 ml.

QUESTÃO 16

A Superintendência de Proteção aos Direitos do Consumidor (Procon Goiás) monitora periodicamente os preços de combustíveis em postos de todo o estado. A tabela a seguir foi construída com base na tomada de preços a cada 10 dias em um posto da capital do estado.

Gasolina	4,37	4,48	4,56	4,89	4,66	4,78
Álcool	2,88	2,78	2,67	2,67	2,88	2,99

(Fonte: <https://www.emaisgoias.com.br/procon-goias-e-mp-investigam-possivel-reajuste-abusivo-no-preco-do-combustivel/>).

O preço médio da gasolina e do álcool nesse período é de:

- a) () R\$ 4,54 e R\$ 2,06.
- b) () R\$ 4,62 e R\$ 2,81.
- c) () R\$ 4,71 e R\$ 2,70.
- d) () R\$ 4,48 e R\$ 2,66.

QUESTÃO 17

Alguns processos judiciais costumam levar meses ou anos para se resolverem. Nos casos em que a pessoa tem pressa para resolver a sua situação, os acordos judiciais podem ser de grande ajuda. Buscando agilizar a solução de casos com uma proposta adequada a ambas as partes, os acordos poupam as pessoas envolvidas dos longos prazos de recursos e periódicas análises a serem realizadas pelo juiz. Os advogados de um determinado sindicato, em uma audiência com o juiz de causas trabalhistas, apresentaram a seguinte proposta de acordo: uma indenização de R\$ 60.000,00 e multa de R\$ 2,00 (que dobraria a cada dia de atraso). Qual é o número de dias para que essa multa atinja a quantia de R\$ 1.000.000,00? (Considere $\log 2 = 0,30$).

- a) () 10 dias
- b) () 20 dias.
- c) () 30 dias.
- d) () 40 dias.

QUESTÃO 18

O vício em games é um tipo de vício comportamental em que a pessoa deixa de fazer suas atividades diárias para ficar jogando, o que compromete atividades básicas do cotidiano, como higiene pessoal, alimentação, trabalho e/ou estudos, vida social etc. Além disso, a pessoa chega ao ponto em que continua ou aumenta a frequência do jogar apesar da ocorrência de consequências negativas. Esse descontrole do ato de jogar deve ser recorrente por mais de 12 meses. Pessoas que conseguem se focar nas outras atividades e se desligar do jogo não entram nesta categoria.

(Fonte: <https://www.minhavidade.com.br/saude/temas/vicio-em-games>).

Alguns jogos de games são tão envolventes que o jogador não se dá conta do tempo investido para encerrar todas as fases. Considera-se que o tempo para superar todas as fases de um game é dado pela função $T(t) = 6t^3 + 12t^2 - 12t + 8$, onde t é em horas por dia. Sabe-se que o jogador vencedor jogava durante 4 horas por dia. Nessas condições, foram necessários aproximadamente quantos dias para superar todas as fases?

- a) () 8
- b) () 18
- c) () 22
- d) () 32

QUESTÃO 19

Na empresa de cosméticos do Sr. Antônio Goulart, no setor de expedição, 10 carregadores, trabalhando em um mesmo ritmo, carregam 50 caixas em 1 hora. Em quanto tempo 8 carregadores, trabalhando nesse mesmo ritmo, carregam 40 caixas?

- a) () 1 hora.
- b) () 30 minutos.
- c) () 2 horas.
- d) () 2 horas e 30 minutos.

QUESTÃO 20

O atual sistema financeiro utiliza o regime de juros compostos, pois ele oferece uma maior rentabilidade se comparado ao regime de juros simples, em que o valor dos rendimentos torna-se fixo. O juro composto incide mês a mês de acordo com o somatório acumulativo do capital com o rendimento mensal, isto é, prática do juro sobre juro. As modalidades de investimentos e financiamentos são calculadas de acordo com esse modelo de investimento, pois ele oferece um maior rendimento e, conseqüentemente, mais lucro.

A expressão matemática que permite calcular o valor do montante (valor acumulado) no regime de capitalização composta é

$$M = C(1 + i)^t, \text{ onde:}$$

M = montante

C = capital

i = taxa

t = tempo

Determine o valor do montante produzido por um capital de R\$ 3.000,00, aplicado a juros compostos de 5% ao mês, durante um ano. Considere $1,05^{12} = 1,8$.

- a) () R\$ 3.800,00
- b) () R\$ 4.300,00
- c) () R\$ 4.950,00
- d) () R\$ 5.400,00

QUESTÃO 21

Os jogos de azar são jogos nos quais os que têm sorte são os que ganham com o azar dos outros jogadores, devido à diferença de probabilidades entre a sorte e o azar. Como as chances da sorte são escassas, são muitos mais os que têm azar, daí que tais jogos são sustentáveis através das perdas dos jogadores que financiam os que vão ter a sorte. A sorte de ganhar ou perder não depende da habilidade do jogador, mas exclusivamente de uma contingência natural baseada numa realidade produzida chamada de

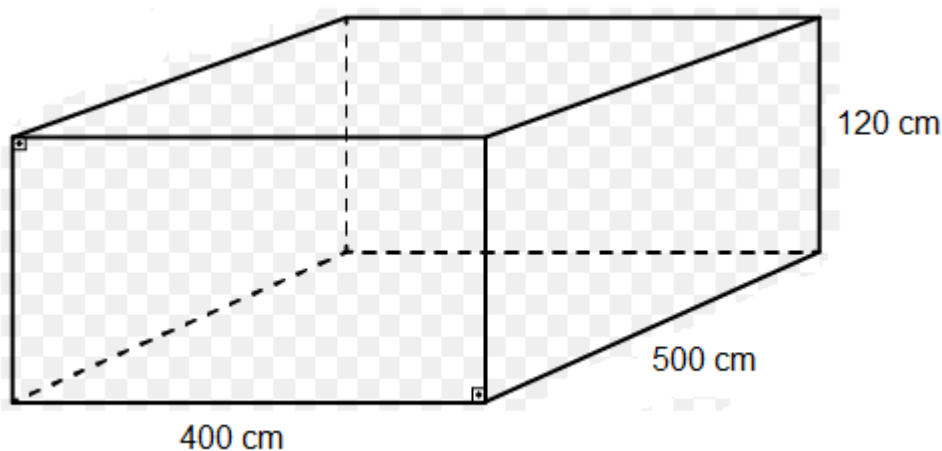
probabilidade matemática.

Lançando um dado duas vezes, qual é a probabilidade de se obter número ímpar no primeiro e no segundo lançamento?

- a) () 25%
- b) () 50%
- c) () 75%
- d) () 100%

QUESTÃO 22

Carlos e Ana Paula, casados há 10 anos, acabam de realizar o sonho de construir uma piscina no quintal de casa. As dimensões da piscina estão representadas na figura a seguir:



O valor do litro de água praticado pela Companhia de Abastecimento de Água da cidade de Carlos e Ana é de R\$ 0,05. Qual é o valor gasto para encher completamente a piscina com água fornecida por essa companhia?

- a) () R\$ 500,00
- b) () R\$ 600,00
- c) () R\$ 1.200,00
- d) () R\$ 1.800,00

QUESTÃO 23

A água é fonte da vida. Não importa quem somos, o que fazemos, onde vivemos, nós dependemos dela para viver. No entanto, por maior que seja a importância da água, as pessoas continuam poluindo os rios e destruindo as nascentes, esquecendo o quanto ela é essencial para nossas vidas.

A água é, provavelmente, o único recurso natural que tem a ver com todos os aspectos da civilização humana, desde o desenvolvimento agrícola e industrial aos valores culturais e religiosos arraigados na sociedade.

No Brasil, em lugares onde a quantidade de água é escassa, a população utiliza cisternas para captação e armazenamento da água da chuva.

No esvaziamento de uma determinada cisterna contendo água da chuva, a expressão

$$V(t) = -\frac{1}{450}t^2 + 2$$

representa o volume (em m³) de água presente no tanque no instante t (em minutos). Qual é o tempo necessário para que o tanque seja esvaziado?

- a) () 10 minutos.
- b) () 20 minutos.
- c) () 30 minutos.
- d) () 40 minutos.

QUESTÃO 24

Em uma determinada loja de roupas, o salário mensal de cada vendedor (a) é determinado da seguinte forma:

- Valor fixo de R\$ 940,00;
- Comissão de 3% sobre o total da venda .

Qual será o salário de uma vendedora que fechou o mês com um valor total de vendas de R\$ 34.000,00?

- a) () R\$ 1.540,00.
- b) () R\$ 1.630,00.
- c) () R\$ 1.870,00.
- d) () R\$ 1.960,00.

CONHECIMENTOS ESPECÍFICOS

QUESTÃO 25

Assinale a alternativa correta, considerando a afirmação abaixo:

A atividade em que são analisados os requisitos necessários que o ocupante de um determinado cargo deve possuir para o desempenho da função, tais como grau de instrução e habilidades físicas, é:

- a) () Recrutamento de candidato.
- b) () Descrição de cargo.
- c) () Análise de cargo.
- d) () Processo seletivo.

QUESTÃO 26

“M.S.P, 21 anos, sexo feminino, é levada ao CAPS pela mãe que relata que a filha vem modificando seus comportamentos; não tem saído de casa, parou de ir à escola, abandonou as atividades que gostava de fazer, cortou suas amizades, pintou o quarto de preto para “ espantar energias ruins”, tem afirmado ouvir vozes ordenando coisas e que seus pensamentos estavam sendo roubados”.

De acordo com as informações acima, marque o diagnóstico correto:

- a) () Transtorno afetivo grave.
- b) () Transtorno de personalidade.
- c) () Transtorno psicótico.
- d) () Transtorno de humor.

QUESTÃO 27

“C. S. fica muito ansioso só em pensar em interação social, reage excessivamente a críticas e apresenta uma sensação constante de inadequação. Encara tudo pelo lado pessoal e acredita que seus vizinhos não o cumprimentam por ser uma pessoa incômoda de se conviver”.

Diante da exposição acima, marque a alternativa correta sobre o transtorno de personalidade:

- a) () Lábil.
- b) () Dependente.

- c) () Recorrente.
- d) () Esquiva.

QUESTÃO 28

Sirota (2005) afirma que são três os fatores que as pessoas desejam numa organização e contribuem positivamente para um clima organizacional altamente positivo:

- a) () Comunicação, altos salários, estrutura funcional.
- b) () Equidade, realização e companheirismo.
- c) () Objetividade, direção e competência.
- d) () Segurança, política e desenvolvimento.

QUESTÃO 29

Um teste de seleção é considerado válido quando é capaz de prognosticar:

- a) () O nível de resiliência num cargo.
- b) () O desempenho futuro da pessoa no cargo.
- c) () Os desvios de comportamento que a pessoa pode apresentar num cargo.
- d) () O grau de inteligência.

QUESTÃO 30

Marque a resposta correta:

- a) () O PMK, que consiste na análise de traços e desenhos (linhas, círculos, zigue - zague, retas, etc.) feitos com lápis, é considerado o único teste adequado para avaliação da personalidade.
- b) () Independentemente do objetivo a que se propõe, o psicólogo pode utilizar a entrevista livre para complementar o processo de avaliação pedagógica.
- c) () São modalidades de documentos utilizados pelos psicólogos: declaração, atestado psicológico, relatório psicológico, laudo psicológico e parecer psicológico.
- d) () O teste de Zulliger é um teste que mede a apercepção temática.

QUESTÃO 31

Identifique o transtorno orgânico listado abaixo:

- a) () Agorafobia.
- b) () Doença de Alzheimer.
- c) () Ciclotimia.
- d) () Transtorno afetivo bipolar.

QUESTÃO 32

Identifique a resposta correta:

- a) () O termo agorafobia, atualmente, é utilizado para incluir o medo de espaços abertos.
- b) () O início de agorafobia ocorre usualmente na infância.
- c) () Os agorafóbicos experimentam pouca ansiedade, porque são consistentemente capazes de evitar as situações fóbicas.
- d) () Todo paciente com transtorno de ansiedade terá como comorbidade a agorafobia.

QUESTÃO 33

As culturas organizacionais são baseadas:

- a) () Nas experiências vividas pelos funcionários.
- b) () Na visão do fundador e dos funcionários que direcionam o tipo de posicionamento que a empresa adotará no mercado.
- c) () Em valores que são compartilhados pela maioria dos colaboradores e dos gerentes e fazem com que as normas norteiem o comportamento.
- d) () Nos tipos de segmentos de atuação da empresa e definem o perfil do cliente.

QUESTÃO 34

A rotatividade de pessoal não é uma causa, mas o efeito de algumas variáveis externas e internas. As informações sobre essas variáveis são obtidas por meio:

- a) () Da análise de conjuntura econômica.
- b) () Da entrevista de desligamento.
- c) () Do índice de satisfação em relação à remuneração.
- d) () Do acompanhamento de oportunidades de emprego.

QUESTÃO 35

A doença de Alzheimer, segundo a CID -10, é uma doença cerebral degenerativa primária de etiologia desconhecida, com aspectos neuropatológicos e neuroquímicos característicos. Sobre a doença de Alzheimer, podemos afirmar:

- a) () Não há alterações neuronais.
- b) () É reversível.
- c) () A história familiar de doença de Alzheimer é um fator contribuinte, mas não é necessário para diagnóstico.
- d) () Não há achados neuroquímicos alterados.

QUESTÃO 36

Os transtornos mentais e de comportamento decorrentes de substâncias psicoativas, segundo a CID-10, são classificados entre F-10 e F-19. O F-12 se refere a:

- a) () Transtornos mentais e de comportamento decorrentes do uso de álcool.
- b) () Transtornos mentais e de comportamento decorrentes do uso de cocaína.
- c) () Transtornos mentais e de comportamento decorrentes do uso de canabinoides.
- d) () Transtornos mentais e de comportamento decorrentes do uso de tabaco.

QUESTÃO 37

Os transtornos esquizofrênicos são caracterizados, em geral, por distorções fundamentais e características do pensamento e da percepção e por afeto inadequado e embotado (CID - 10) . Considerando os transtornos esquizofrênicos, marque a resposta correta:

- a) () Presença de vozes alucinatórias comentando o comportamento do paciente ou discutindo entre elas sobre o paciente ou outros tipos de vozes alucinatórias vindo de alguma parte do corpo.
- b) () Episódios de mania são usuais nos transtornos esquizofrênicos, predominando sobre os demais sintomas específicos.
- c) () São sintomas da esquizofrenia paranoide: o comportamento é irresponsável e imprescindível, com maneirismos, o afeto é inadequado, com queixas hipocondríacas. O pensamento é desorganizado e o discurso cheio de divagações.
- d) () A esquizofrenia catatônica é típica de países industrializados.

QUESTÃO 38

Nos transtornos de humor, a perturbação fundamental é uma alteração do humor ou afeto. São classificados como transtorno do humor ou do afeto:

- a) () Transtorno obsessivo - compulsivo, episódio depressivo, transtorno bipolar.
- b) () Transtornos esquizoafetivos, transtorno obsessivo-compulsivo, episódio depressivo.
- c) () Espisódio maníaco, transtorno bipolar, episódio depressivo.
- d) () Transtorno obsessivo-compulsivo, transtorno de ajustamento, episódio depressivo.

QUESTÃO 39

O transtorno caracterizado por autodramatização, teatralidade, expressão exagerada de emoções denomina-se:

- a) () Personalidade anancástica.
- b) () Personalidade histriônica.
- c) () Personalidade antissocial.
- d) () Personalidade dependente.

QUESTÃO 40

O transtorno caracterizado por notável perda de cabelo devido a uma falha recorrente de resistir ao impulso de arrancá-los é denominado de:

- a) () Cleptomania.
- b) () Tricotelomania.
- c) () Fetichismo.
- d) () Voyeurismo.

QUESTÃO 41

O transtorno específico do desenvolvimento no qual o uso dos sons da fala pela criança está abaixo do nível apropriado para sua idade mental, mas no qual há um nível normal de habilidade de linguagem, pode ser diagnosticado com segurança, com domínio de quase todos os sons da fala, na idade de:

- a) () 02 anos.
- b) () 04 anos.
- c) () 06 - 07 anos.
- d) () 11- 12 anos.

QUESTÃO 42

A compreensão da relação entre trabalho e saúde mental tem sido, há várias décadas, objeto de estudo de pesquisadores das áreas de saúde, antropologia e sociologia. Para Dejour (1992), as condições de trabalho têm como alvo o corpo, enquanto que a organização do trabalho atinge o funcionamento psíquico.

Considerando as condições de trabalho que afetam o corpo, temos:

- a) () LER /DORT , burnout , episódios depressivos.
- b) () Burnout , LER / DORT.
- c) () LER / DORT.
- d) () Episódios depressivos, ansiedade, angústia, medo.

QUESTÃO 43

Ao longo do tempo, o mundo do trabalho sofreu profundas mudanças. Além disso, à competitividade no mercado de trabalho soma-se o medo do desemprego, induzindo as pessoas a se submeterem a condições

desumanas de trabalho. As mulheres entre 31 e 40 anos são as mais afetadas profissionalmente no processo de adoecimento (Carreiro, Ferreira Filha, Lazarte et al).

Portanto, os fatores predominantes do adoecimento são:

- a) () Sobrecarga de trabalho.
- b) () Precarização dos empregos.
- c) () Falta de condições adequadas para o desenvolvimento do trabalho.
- d) () Multifatorialidade do processo.

QUESTÃO 44

A primeira etapa de um treinamento é compreender as necessidades da organização. Segundo Chiavenato (2004), os passos para o levantamento das necessidades são:

- a) () Levantamento das necessidades e aspirações do funcionário, análise organizacional, análises dos cargos.
- b) () Análise de cargos e análise de treinamento são suficientes.
- c) () Análise organizacional, de cargos e treinamento.
- d) () Análise organizacional, análise dos recursos humanos, análise dos cargos e análise de treinamento.

QUESTÃO 45

Sobre o autismo, marque V (verdadeiro) ou F (falso) para as afirmações:

- () Os comportamentos que definem o autismo incluem déficits qualitativos na interação social e na comunicação, padrões de comportamentos repetitivos e estereotipados e um repertório restrito de interesses e atividades.
- () O autismo não é uma doença única, mas sim um distúrbio complexo, apresenta etiologias múltiplas e se caracteriza por graus variados de gravidade.
- () A avaliação de indivíduos autistas requer uma equipe multidisciplinar e o uso de escalas objetivas.
- () Os autistas melhoram as dificuldades na vida adulta e adquirem maior capacidade de se adaptar às mudanças.

Assinale a alternativa correta:

- a) () V,V,V,V.
- b) () F,V,F,V.
- c) () F,F,F,F.
- d) () V,V,V,F.

QUESTÃO 46

O Transtorno de Déficit de Atenção e Hiperatividade (TDAH), pode se manifestar como distração, desatenção, agitação, hiperatividade, impulsividade. Sobre o TDAH, considere as afirmações abaixo:

- I - O TDAH é um transtorno de inibição e da autorregulação cujos sintomas parecem surgir, em média, entre 03 e 06 anos.
- II - A hereditariedade / genética tem maior contribuição para a expressão do transtorno na população.
- III - O TDAH ocorre em aproximadamente 5 a 8 % da população infantil, sendo que os meninos têm maior probabilidade de portar o transtorno que as meninas.

IV - O TDAH requer uma abrangente avaliação comportamental, educacional e médica, seguida da educação do indivíduo ou dos familiares quanto à natureza do transtorno e aos métodos que, comprovadamente, auxiliam em seu manejo.

Sobre o TDAH, assinale a alternativa correta:

- a) () I e II estão corretas.
- b) () III e IV estão corretas.
- c) () IV está correta.
- d) () Todas as alternativas estão corretas.

QUESTÃO 47

Sobre a dislexia, marque V (verdadeiro) ou F (falso) para as seguintes afirmações:

- () Dislexia é uma dificuldade de leitura, escrita e ortografia indicada por um desempenho em letramento inferior à média para a idade.
- () A dislexia é causada por um déficit geral.
- () A dislexia está associada às dificuldades fonológicas, dificuldade de processamento da informação, memória, coordenação e dificuldades visuais e de processamento auditivo.
- () Sem a assistência e o apoio necessários, os disléxicos desestimulam-se, perdem-se e, por fim, desistem.

Assinale a alternativa correta:

- a) () V,V,F,V.
- b) () V,F,V,F.
- c) () V,V,F,F.
- d) () V,F,V,V.

QUESTÃO 48

Assinale a alternativa INCORRETA:

- a) () Dificuldade para aprendizagem é um termo genérico que abrange um grupo heterogêneo de problemas capazes de alterar a possibilidade de a criança aprender, independente de suas condições neurológicas.
- b) () Transtorno de aprendizagem deve-se a dificuldades primárias ou específicas, que se devem a alterações no sistema nervoso central.
- c) () Os fatores envolvidos nas dificuldades para aprendizagem podem ser divididos em : fatores relacionados com a família e fatores relacionados com a criança.
- d) () A criança pode apresentar em seu desenvolvimento problemas físicos, transtornos psiquiátricos, deficiência mental e patologias neurológicas ou dificuldades de aprendizagem.

QUESTÃO 49

O profissional de saúde mental, ao atender um paciente portador de transtorno mental, deve, entre outras condutas:

- a) () Independente do ambiente, iniciar a abordagem sozinho, para que o paciente se sinta mais à vontade.
- b) () Adotar uma comunicação terapêutica, com tom de voz firme e alto, na tentativa de que o paciente perceba quem tem controle da situação.
- c) () Agir respeitosamente, sem recriminações ou julgamentos, porém deixando claro que não concorda com o posicionamento do paciente.
- d) () Avaliar previamente as condições de segurança, mantendo uma posição favorável, em local

que permita a saída imediata da área de risco, fato que traz segurança para a equipe e para o paciente.

QUESTÃO 50

Segundo Chiavenato, o treinamento é tido como peça-chave no processo de desenvolvimento organizacional. Os principais objetivos do treinamento, segundo Chiavenato (2010), são:

- a) () Preparar pessoas para a execução imediata das tarefas peculiares à organização; dar oportunidade para contínuo desenvolvimento pessoal, não apenas no cargo, atualmente ocupado, mas também em outros que o indivíduo possa vir a exercer.
- b) () Dar oportunidade para contínuo desenvolvimento pessoal, não apenas no cargo, atualmente ocupado, mas também em outros que o indivíduo possa vir a exercer .
o treinamento visa criar motivação no funcionário, para que possa alcançar cargas gerenciais, quando surgirem oportunidades.
- c) () Preparar pessoas para a execução imediata das tarefas peculiares à organização; pelo alto custo do treinamento, só funções de chefia devem receber treinamento.
- d) () O treinamento não visa mudança de comportamento, mas sim produtividade; pelo alto custo, só funções de chefia devem receber treinamento.

QUESTÃO 51

Uma das tendências atuais no campo da gestão de pessoal é a de investir em processos de empoderamento (empowerment) visando a:

- a) () Fortalecer o poder das chefias.
- b) () Desenvolver a construção do poder pessoal.
- c) () Estimular a construção do poder pessoal.
- d) () Atribuir maiores responsabilidades ao escalão gerencial.

QUESTÃO 52

Nos desenhos acromáticos do teste HTP - casa, árvore, pessoa, se o indivíduo quiser usar régua para auxílio no desenho, o psicólogo deve ressaltar que:

- a) () Fica a critério do sujeito o uso da régua.
- b) () O desenho deve ser à mão livre.
- c) () Não é necessário ser tão criterioso e metuculoso na grafia.
- d) () É terminantemente proibido o uso de objetos adicionais variados durante a execução dos primeiros dois desenhos.

QUESTÃO 53

O psicólogo nas equipes multiprofissionais de saúde deve contribuir em quais aspectos?

- a) () Trazer para os membros da equipe a subjetividade do paciente, do seu cuidador e da família, bem como facilitar a comunicação entre a equipe e os pacientes e/ou familiares.
- b) () Realizar atendimento psicoterápico individual ou familiar, bem como psicodiagnóstico infantil.
- c) () Realizar encaminhamentos para avaliações psiquiátricas.
- d) () Pontuar a necessidade de diagnóstico diferencial.

QUESTÃO 54

A avaliação de Desempenho por Competência deve considerar principalmente:

- a) () A análise e descrição de cargos pautada em tarefas e em critérios focados às habilidades.
- b) () Os conhecimentos, as habilidades e as atitudes dos profissionais.

- c) () A análise do perfil dos profissionais direcionado especialmente nas exigências comportamentais.
- d) () A análise dos conhecimentos, habilidades e atitudes dos profissionais alinhadas com os objetivos organizacionais.

QUESTÃO 55

A mediação é geralmente definida com a interferência em uma negociação ou em um conflito de uma terceira parte aceitável, tendo um poder de decisão:

- a) () Ilimitado e voluntário, em que as pessoas em conflito solicitam a ajuda de uma terceira parte imparcial e neutra para tomar uma decisão por elas, com relação contestada.
- b) () Limitado ou não autoritário, e que ajuda as partes envolvidas a chegarem voluntariamente a um acordo, mutuamente aceitável, com relação às questões em disputa.
- c) () Arbitral, no qual as partes podem sempre escolher seu próprio árbitro ou conselho de árbitros, o que lhes dá mais controle sobre a decisão do que se a terceira parte fosse indicada por uma autoridade ou agência externas.
- d) () Circunstancial, em abordagem extralegal, incluindo procedimentos privados que as partes usam isoladamente ou com ajuda de uma terceira parte para negociar um acordo não voluntário ou com a decisão de uma terceira parte, sancionada de modo privado ou público.

QUESTÃO 56

Com relação à entrevista clínica (CUNHA , 2000), analise as afirmativas abaixo e, a seguir , marque a alternativa correta:

- a) () Em todas os tipos de entrevista, o entrevistador a direciona de alguma forma para alcançar seus objetivos.
- b) () A finalidade maior de uma entrevista é descrever e avaliar para oferecer alguma forma de retorno.
- c) () Em uma entrevista de triagem, é necessário avaliar a adequação de demanda em relação ao encaminhamento pretendido.
- d) () Todas as afirmações são corretas.